



BASANT VALLEY PUBLIC SCHOOL
PLOT NO. 119, SECTOR - 46, GURUGRAM

WINTER HOLIDAY HOMEWORK

SESSION: 2023-24

CLASS - 2nd

HAPPY NEW YEAR



MATHS

Use the information below to answer the questions.

Last Saturday Mrs. Black bought the following items at the market.



yam

20kg



chicken

35kg



potatoes

14kg



pumpkin

20kg



cabbage

11kg


Questions


1. How **many** items were bought by Mrs. Black? items were bought.
2. What is the **heaviest** item? The _____ is the heaviest item.
3. The **lightest** item is the _____.
4. What is the **weight** of the **chicken**? The weight of the chicken is kg.
5. Which two items have the **same** weight? The _____ and the _____
6. Which item weighs **14kg**? The _____ weigh 14kg.
7. If Mrs. Black wants to make **French fries**, which item will she use? She will use the _____.
8. What is the **difference** between the weight of the **potatoes** and the **cabbage**?
 Kg
9. What is the **total** weight of the **chicken** and the **pumpkin**? Kg
10. Find the **difference** in weight between the **yam** and the **cabbage** Kg
11. If I want to eat the leaves of a plant, which item should I eat? The _____


How many Coins?


Answer the following questions.

How many  make Rs 24 ? _____

How many  make Rs 25 ? _____

How many  make Rs 40 ? _____

How many  make Rs 90 ? _____

How many  make Rs 60 ? _____

How many  make Rs 40 ? _____



➤ MEASUREMENT WORKSHEET

I. Look at the pictures and fill in the blanks:

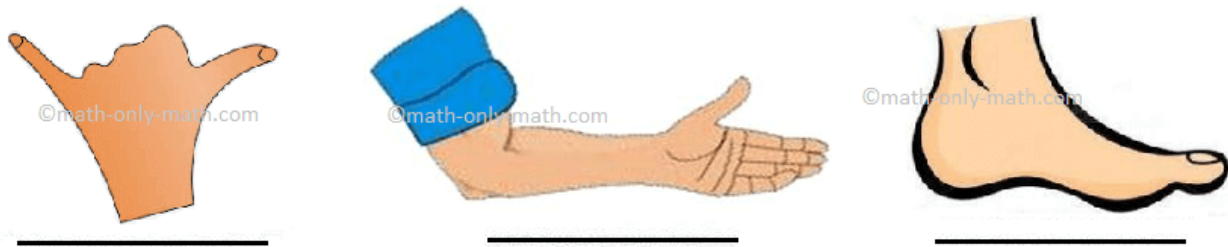


(i) The book is about erasers long.

(ii) The book is about pencils long.

(iii) The book is about clips long.

II. Name the following measurements:



III. Choose the right word:

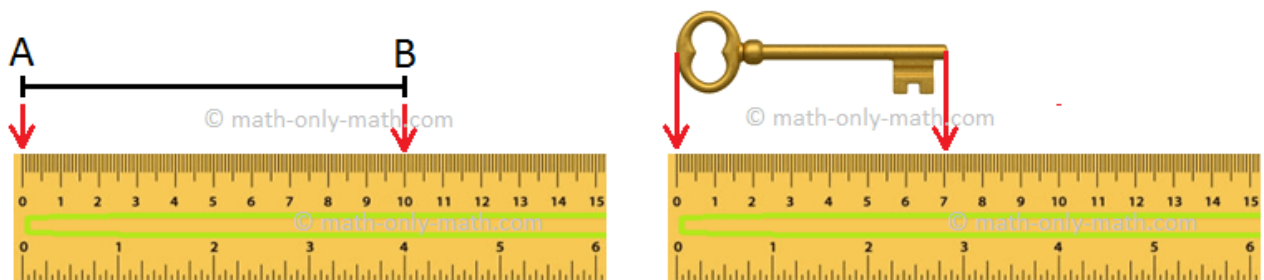
(i) The standard unit of length is (meter/handspan).

(ii) The length of longer objects is measured in (meter/centimeter).

(iii) The length of smaller objects is measured in (meter/centimeter).

(iv) 1 meter = (1000 centimeter/100 centimeter).

IV. Look at the following pictures and answer the questions.



(i) The straight line is _____ cm long.

(ii) The key is _____ cm long.

V. Patricia has a ribbon which is 1 m long and Paulina has a 500 cm long ribbon. Whose ribbon is longer?

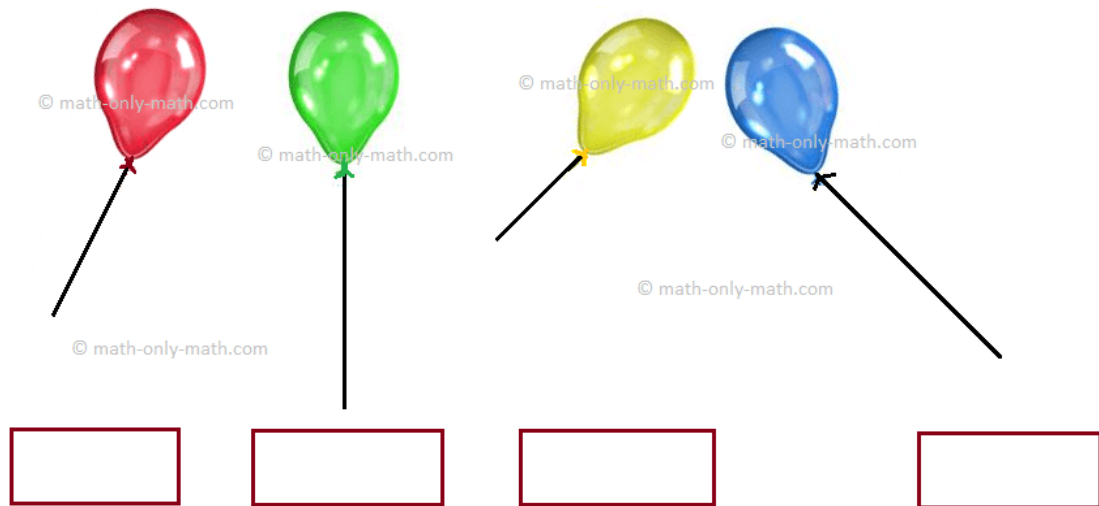
VI. Choose the correct word and fill in the blanks.

(i) A cloth merchant uses a _____ to measure the cloth. (meter rod/ruler)

(ii) A mason uses a _____ to measure the wall. (ruler/metre tape)

(iii) Students use a _____ to measure the length of a line. (ruler/meter rod)

VII. Measure the length of the strings using a ruler and write it in the box given below.



VIII. Andrew's bat is 1 m long and Samuel's bat is 90 cm long. Whose bat is longer?

हिन्दी

- प्रतिदिन हिन्दी का एक पेज पढ़ें।
- रोज एक पेज हिंदी सुलेख का लिखें।

संज्ञा

परिभाषा - किसी प्राणी ,वस्तु ,भाव, गुण एवं स्थान के नाम को संज्ञा कहते है।

जैसे - राम, राधा, भारत, किताब, ताजमहल अदि।

नीचे दिए गए शब्दों में से संज्ञा शब्द पर गोला लगाओ।

राजू पीना चीन बड़ा

इंडिया गेट बस नाचना सुन्दर

पीला मोहन चलना गंगा नदी

हिमालय मुंबई अलमारी लिखना

बगीचा शिकार पानी फूल

सर्वनाम

"संज्ञा के स्थान पर प्रयोग होने वाले शब्द सर्वनाम कहलाते हैं।"

जैसे - मैं, हम, तुम, वह आदि।

खाली स्थान में उचित सर्वनाम शब्द लिखिए।

- वहां बैठा है। (कौन / किसका)
-खाना बनाना आता है। (मुझे / मेरा)
- ये..... घर है। (मुझे / मेरा)
-नाम क्या है। (तुम्हें / आपका)
- मुझे खाने के लिए चाहिए (तुम / कुछ)
-कौन आ रहा है। (किसका / वह)
- सीतापुत्री थी? (उन्हें / किसकी)

विशेषण

नीचे लिखे वाक्यों को उनकी संख्या/मात्रा बताने वाले विशेषण शब्दों से पूरा करें।

1. _____ लड़कियाँ हँसने लगीं।

2. वह _____ दिनों से बीमार है।

3. रावण के _____ सिर थे।

4. हमारी इमारत _____ मंजिल की है।

5. हर हाथ में _____ उंगलियाँ और
अंगूठा होता है।

पाँच

सारी

कई

दस

चार, एक



वचन

शब्द के रूप से संज्ञा या सर्वनाम का एक या एक से अधिक संख्या होने का पता चलता है। शब्द का यह रूप वचन कहलाता है। वचन दो प्रकार के होते हैं - एक वचन और बहुवचन।

सही मिलान कीजिए।

सब्जी	आदमी
रास्तों	दुकान
शहर	कपड़ा
चूड़ियाँ	कागज
आदमियों	सब्जियाँ
कपड़े	शहरों
दुकानों	रास्ता
कागजों	चूड़ी
त्यौहार	जलेबी
जलेबियाँ	त्यौहारों

लिंग

सही जोड़े बनाओ -

बाघ

माँ

बैल

गधी

गधा

शेरनी

चाचा

चाची

शेर

बाघिनी

पिता

गाय

अपठित गद्यांश २

राजू के जन्मदिन के दिन, उसके मित्र उसके घर आए। सभी ने राजू को बधाई दी और उसे उपहार दिए। राजू खुश था क्योंकि उसको एक सुंदर सी पेंटिंग मिली। उसने धन्यवाद दिया और उस पेंटिंग को अपने कमरे की दीवार पर लगा दिया।

प्रश्न:

1. राजू के घर कौन आए?

-

2. राजू को क्या मिला?

-

3. राजू ने पेंटिंग को कहां लगाया?

ENGLISH

- Do pages 48, 49 of assignment book.
- Write a paragraph about how you enjoyed the Christmas carnival held at your school.
- Read Tara's secret

EVS

- Draw a picture of your favourite festival and colour it. Write 10 lines about it.
- Do assignment chapter 13 and 14.

COMPUTER

- Do book pages 116, 117 and 118 in book itself.
- Answer the following questions in computer notebook (Write answers in sentences):-
 1. What is the small version of laptop?
 2. Name the key that is used to close a program.
 3. Name a USB storage device.
 4. Which button of mouse do we hold to drag an item?
 5. Name the part of computer which controls the functioning of all the parts.
 6. Name the additional computer device which comes in pairs.
 7. Write at least 5 storage devices.
 8. Write two similarities between humans and computers.
 9. Write two differences between humans and computers.
 10. Write 5 input devices and 5 output devices.